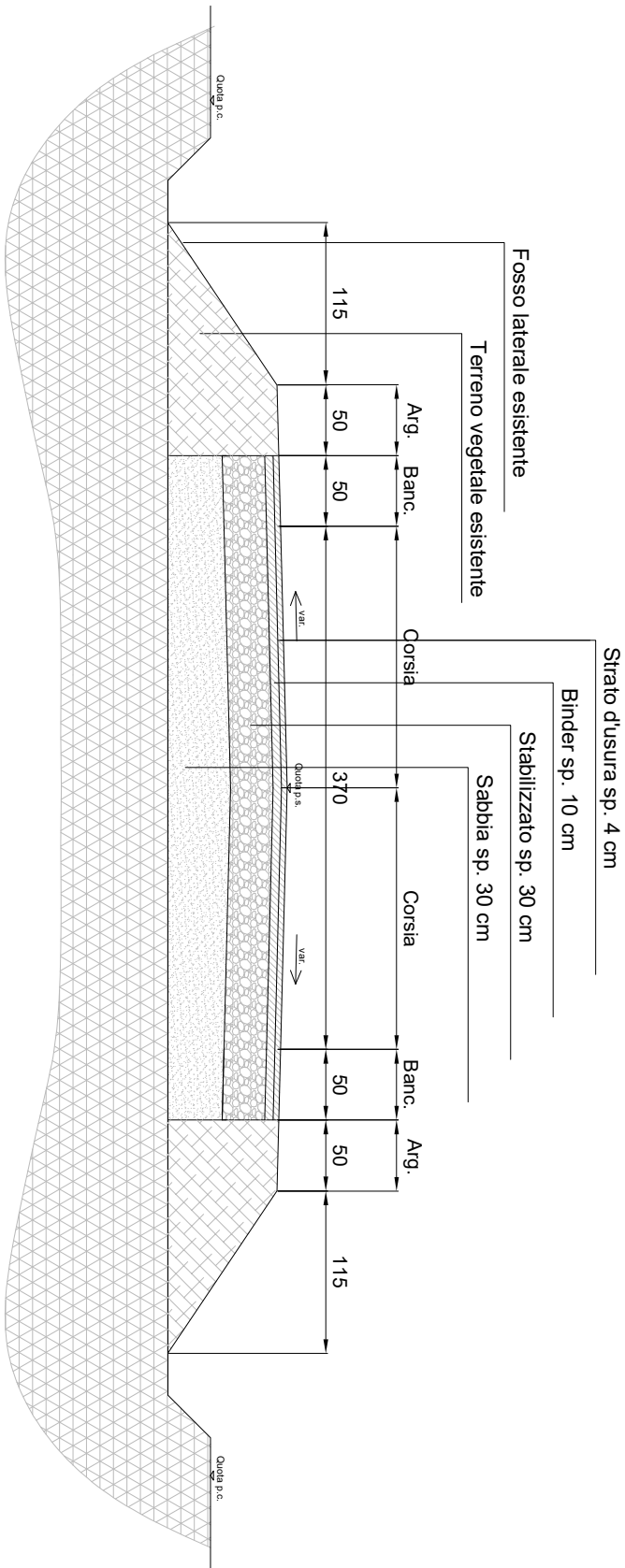


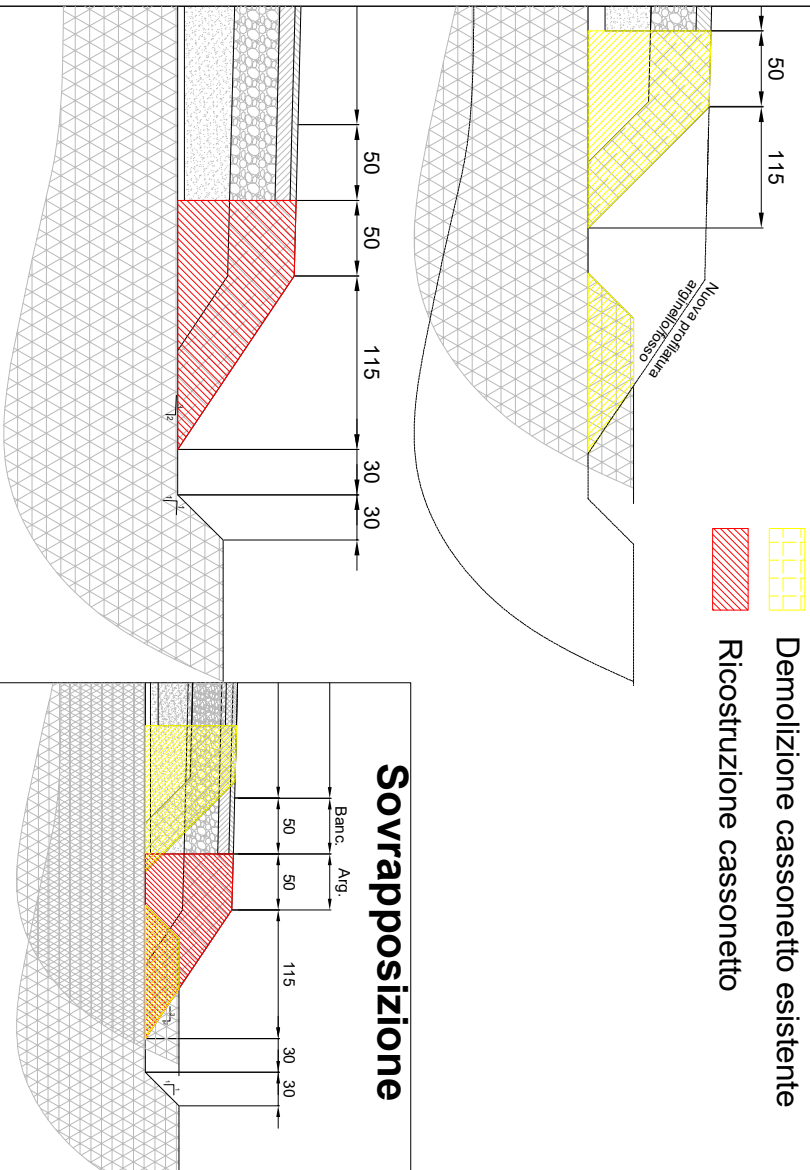
PROVA B

1	Quale dei seguenti compiti può essere affidato agli assistenti con funzioni di direttori operativi?
	A. La funzione di responsabile dei lavori ai sensi della vigente normativa sulla sicurezza
	B. La funzione di direttore tecnico dell'impresa esecutrice
2	Da chi può essere disposta la sospensione dei lavori?
	A. Dal direttore dei lavori
	B. Dall'impresa esecutrice
3	Il libretto delle misure contiene:
	A. Il numero progressivo degli operai impiegati
	B. L'elenco di tutti i materiali acquistati dall'impresa esecutrice
4	Il capitolato speciale d'appalto:
	A. È un documento obbligatorio del progetto di fattibilità tecnica ed economica
	B. È uno dei documenti principali costituenti il progetto esecutivo
5	Il coordinatore per la sicurezza in fase di progettazione:
	A. Redige il piano di sicurezza e coordinamento
	B. Redige il piano operativo di sicurezza
6	Il piano di sicurezza e coordinamento:
	A. Non è parte integrante del contratto
	B. È parte integrante del contratto
7	In quali casi, la vigente normativa sui contratti pubblici consente alle stazioni appaltanti di procedere all'affidamento diretto di servizi?
	A. Per servizi di importo inferiore a 140.000,00 euro anche senza consultazione di più operatori economici
	B. Per servizi di importo inferiore a 140.000,00 sempre previa consultazione di più operatori economici
8	Il progetto di fattibilità tecnico-economica di un'opera pubblica
	A. Individua, tra più soluzioni possibili, quella che esprime il rapporto migliore tra costi e benefici per la collettività in relazione alle specifiche esigenze da soddisfare e alle prestazioni da fornire
	B. Contiene lo schema di contratto
9	Il Direttore dei lavori, con l'ufficio di direzione dei lavori, ove costituito, è preposto
	A. Esclusivamente al controllo contabile dell'esecuzione dell'intervento
	B. Al controllo tecnico, contabile e amministrativo dell'esecuzione dell'intervento
10	In base ai contenuti ed ai fini dell'applicazione dei contenuti del d.lgs. 81/2008 e successive modifiche e integrazioni, cosa si intende per "lavoro in quota"?
	A. Un'attività lavorativa che espone il lavoratore al rischio di caduta da una quota posta ad altezza superiore a 6 m rispetto ad un piano stabile
	B. Un'attività lavorativa che espone il lavoratore al rischio di caduta da una quota posta ad altezza superiore a 5 m rispetto ad un piano stabile
	C. Un'attività lavorativa che espone il lavoratore al rischio di caduta da una quota posta ad altezza superiore a 2 m rispetto ad un piano stabile

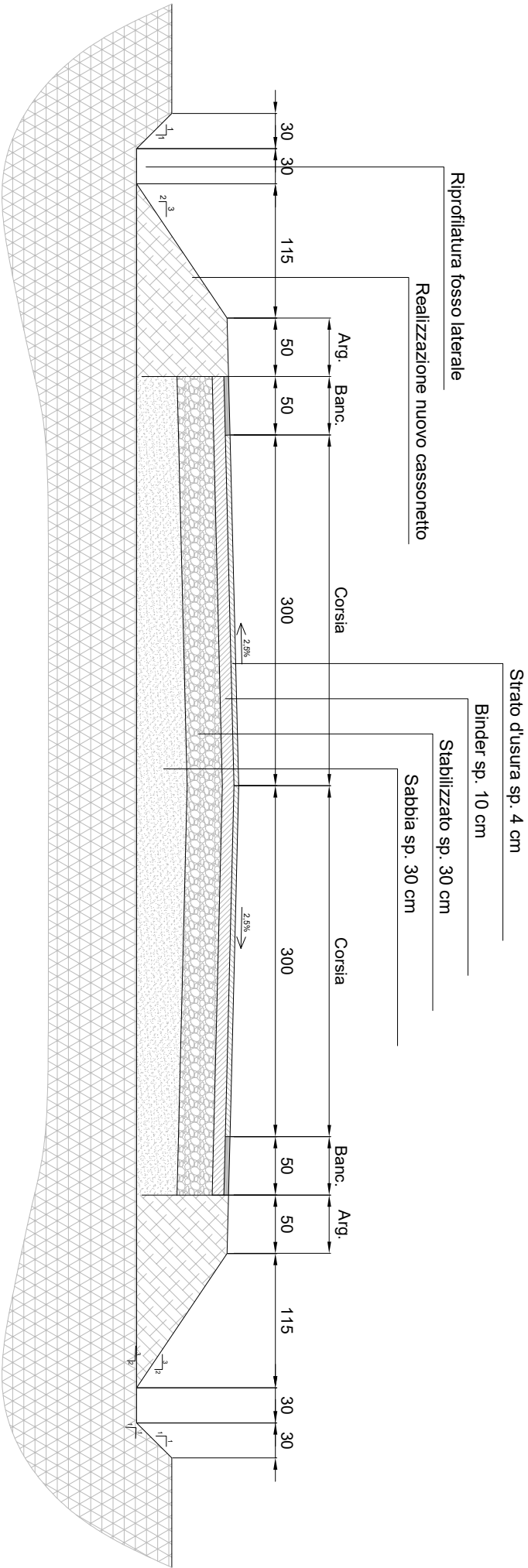
SEZIONE TRASVERSALE TIPO STATO DI FATTO



DETTAGLIO INTERVENTO CASSONETTO LATERALE



SEZIONE TRASVERSALE TIPO DI PROGETTO



PROVINCIA DI  
RAVENNA

Presidente della Provincia  
Michelo De Pascale

Consigliere delegato Strade - Trasporti - Pianificazione  
Territoriale:  
Arch. Niccolò Pasi

SETTORE VIABILITA'

UNITA' OPERATIVA PROGETTAZIONE TERRITORIALE

PROVA B  
LUNGHEZZA TRATTO 1500 M

SEZIONI TIPO

Tecnico/Elaborato	-
Scala	
Data	

QUESTA IMOLA E' DI PROPRIETA' ESCLUSIVA DELLA PROVINCIA DI RAVENNA. ED E' FISSA SOTTO LA TIRATA DELLA LEGGE DI RAVENNA LA RIPRODUZIONE ANCHE FINALE E LA CESSIONE A TERZO SOTTO L'INDELLIGIBILITA' SOSTITUITA.